

بسمه تعالی

مروری بر آموخته‌های ریاضی

پیش دبستانی و دبستان غیردولتی ریحانه

مدت زمان: ۴۵ دقیقه

تاریخ: ۱۴۰۰/۱۰/۱۱

کلاس: دوم

نام و نام خانوادگی:

۱ الگوهای زیر را ادامه دهید.

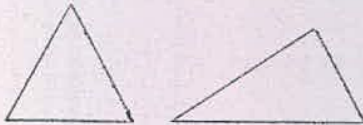
۴ - ۸ - ۱۲ - - -

۱ - ۲ - ۴ - ۷ - - -

۲۴۵ - ۲۴۶ - ۲۴۷ - - - -

۲ یک عدد دو رقمی بنویسید که رقم یکان آن ۵ و رقم دهگان آن ۴ تا بیشتر از رقم یکان باشد.

۳ دو شکل زیر چه تفاوت و شباهت‌هایی با هم دارند؟

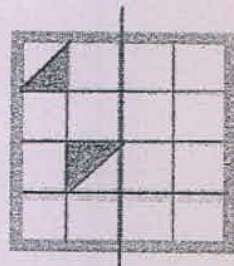



شباهت:

تفاوت:

.....

۴ قسمت‌های دیگر هر شکل را با توجه به خط‌های تقارن کامل کنید.



۵ جمع و تفریق زیر را با رسم شکل و فرایندی حل کنید.




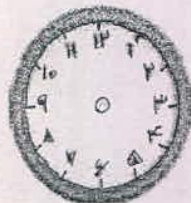
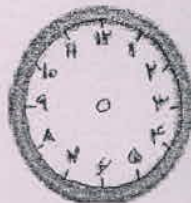
$$\begin{array}{r} ۲۹ \\ + ۱۴ \\ \hline \end{array}$$

+

$$\begin{array}{r} ۴۳ \\ - ۲۷ \\ \hline \end{array}$$

-

۶ همه‌ی عددهای دورقمی را بنویسید که رقم یکان آن‌ها ۰ یا ۵ و رقم دهگان آن‌ها ۷ یا ۶ باشد.

<p>۷ تکالیف ریاضی و علوم مهدیه ۵۵ دقیقه طول کشید. اگر تکالیف علوم او ۲۹ دقیقه زمان برده باشد، مهدیه در چند دقیقه تکالیف ریاضی نوشته است؟</p>	۷																								
<p>۸ عددی را که هر شکل نشان می دهد در جدول قرار دهید و با رقم و با حروف بنویسید.</p> <div style="display: flex; justify-content: space-around;"> <div style="text-align: center;">  </div> <div style="text-align: center;"> <table border="1" style="border-collapse: collapse; width: 100px; height: 100px;"> <thead> <tr> <th style="padding: 5px;">یکان</th> <th style="padding: 5px;">دهگان</th> <th style="padding: 5px;">صدگان</th> </tr> </thead> <tbody> <tr><td style="height: 20px;"> </td><td style="height: 20px;"> </td><td style="height: 20px;"> </td></tr> <tr><td style="height: 20px;"> </td><td style="height: 20px;"> </td><td style="height: 20px;"> </td></tr> <tr><td style="height: 20px;"> </td><td style="height: 20px;"> </td><td style="height: 20px;"> </td></tr> </tbody> </table> </div> </div> <div style="display: flex; justify-content: space-around;"> <div style="text-align: center;">  </div> <div style="text-align: center;"> <table border="1" style="border-collapse: collapse; width: 100px; height: 100px;"> <thead> <tr> <th style="padding: 5px;">یکان</th> <th style="padding: 5px;">دهگان</th> <th style="padding: 5px;">صدگان</th> </tr> </thead> <tbody> <tr><td style="height: 20px;"> </td><td style="height: 20px;"> </td><td style="height: 20px;"> </td></tr> <tr><td style="height: 20px;"> </td><td style="height: 20px;"> </td><td style="height: 20px;"> </td></tr> <tr><td style="height: 20px;"> </td><td style="height: 20px;"> </td><td style="height: 20px;"> </td></tr> </tbody> </table> </div> </div>	یکان	دهگان	صدگان										یکان	دهگان	صدگان										۸
یکان	دهگان	صدگان																							
یکان	دهگان	صدگان																							
<p>۹ یک سکه ۱۰ ریالی برابر است با سکه ۱ ریالی.</p>	۹																								
<p>۱۰ زمانی را که ساعت نشان می دهد بنویسید.</p> <div style="display: flex; align-items: center; justify-content: center;">  <div style="margin: 0 20px;">:</div> <div>ساعت و است.</div> </div>	۱۰																								
<p>۱۱ زمان های زیر را روی هر ساعت نشان دهید.</p> <div style="display: flex; justify-content: space-around; align-items: center;"> <div style="text-align: center;">  <p>نیم ساعت بعد از ۲</p> </div> <div style="text-align: center;">  <p>یک ربع مانده به ۷</p> </div> </div>	۱۱																								
<p>۱۲ ساعت ۲ است. یک ساعت و ربع بعد ساعت چند است؟</p>	۱۲																								
<p>غنچه های ریحانه، سربلند و پیروز باشید.</p>																									